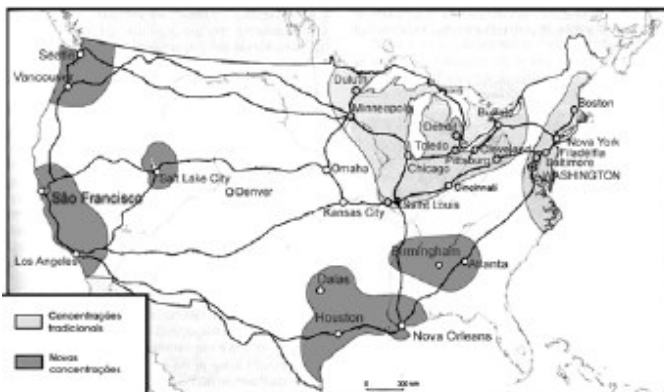


GEOGRAFIA – PROVA ESPECÍFICA

Questão 1

Nos Estados Unidos, a acumulação pós-industrial é responsável por novas formas de organização espacial das atividades industriais, como apresenta o mapa abaixo:



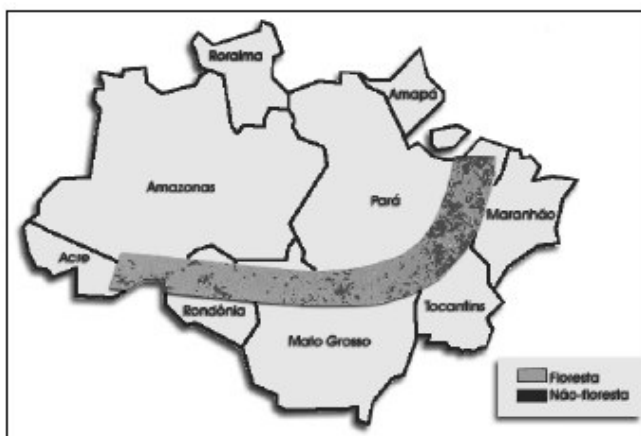
Modificado de Chaliand e Rageau, Atlas stratégique.

Aponte dois fatores que expliquem o crescimento das novas áreas de concentrações industriais neste país.

Questão 2

Na década de 1980, foram desmatados cerca de 3,5% da superfície da Amazônia brasileira, índice que, no final dos anos 90, alcança 8,5%. Imagens da floresta em chamas, seus efeitos sobre a perda da biodiversidade, encontram eco na mídia e sensibilizam a comunidade internacional. “A Amazônia parece ter, enfim, atingido seus limites. Ela não é mais um reservatório inesgotável de recursos naturais a serem explorados.” (Catherine Aubertin, 2000)

AMAZÔNIA LEGAL - “ARCO DO DESMATAMENTO”



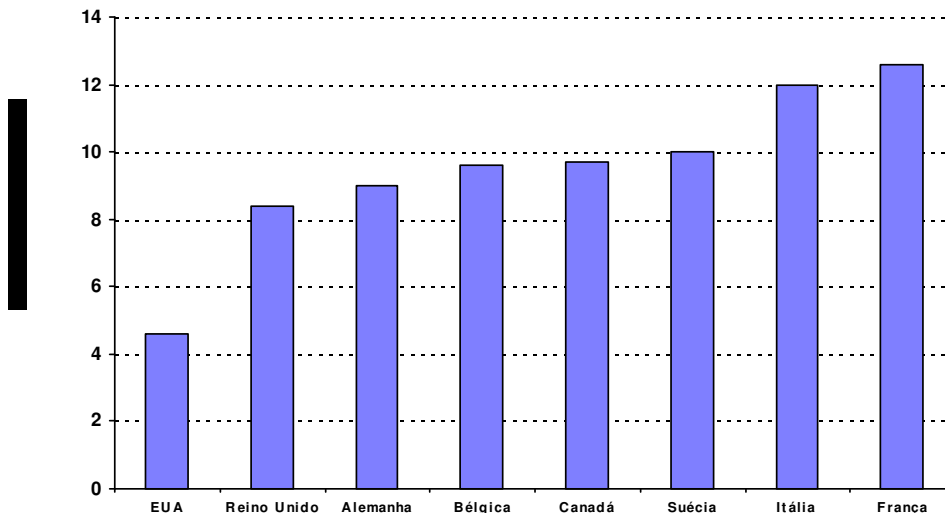
Revista Ciência Hoje, v. 27, n. 157, jan/fev. 2000.

Explique 4 razões que justifiquem o chamado “arco do desmatamento” na Amazônia Oriental.

Questão 3



O desemprego é um dos principais problemas deste fim de século. O gráfico mostra que, longe de ser um fenômeno característico dos “países subdesenvolvidos”, o desemprego tornou-se, também, uma realidade assustadora nos “países desenvolvidos”.



Cite dois fatores responsáveis pelo desemprego nos países capitalistas desenvolvidos. Justifique sua resposta.

Questão 4

Quando o reverendo Thomas Malthus, ministro da Igreja Anglicana (1766-1834), publicou sua obra *Ensaio sobre o Princípio de População*, a Inglaterra experimentava as transformações da Primeira Revolução Industrial. Naquele momento, a população mundial era constituída de aproximadamente 1 bilhão de habitantes e a pobreza e a fome eram fatos preocupantes. Atualmente estamos vivendo a Terceira Revolução Industrial e, neste ano de 1999, a população mundial atinge os 6 bilhões de habitantes, diante de um quadro global de grandes desigualdades socioeconômicas e ameaças ao meio ambiente. Para Malthus, naquela época, a pobreza e a fome seriam resultados do desequilíbrio entre o ritmo de crescimento da população e a capacidade de produção de alimentos. Hoje, para os novos malthusianos, que adotam um discurso alarmista, a redução do crescimento das populações nos países periféricos reduziria o número de pobres e famintos, assim como diminuiria a pressão da população sobre os recursos que a natureza pode oferecer.

a) A partir do texto explique por que a previsão de Malthus não se concretizou.



2º Simulado/UFRJ - 2º DIA -31 de Julho 2007

b) Apresente uma crítica ao discurso neomalthusiano alarmista.

Questão 5

A maior aproximação entre os Estados Unidos, Canadá e México através da formação de um bloco econômico, o NAFTA (North America Free Trade Agreement) não diminuiu as contradições do espaço norte-americano. Sobre este bloco econômico explique as diferentes razões que levaram a inserção de México e Canadá por ocasião da criação do Bloco.

Aponte a maior crítica em relação à inserção do México.