

GEOGRAFIA – NÃO ESPECÍFICA**Questão 1**

<p>TUVALU JÁ VIRA MAR – ILHA DO PACÍFICO CONFIRMA A PROFECEIA DE PADRE CÍCERO DE QUE O SERTÃO VAI VIRAR MAR E O MAR VIRAR SERTÃO</p> <p>Os líderes de Tuvalu, uma minúscula ilha-nação no Oceano Pacífico, a meio caminho entre Havai e Austrália, reconheceram a derrota em sua batalha contra o mar invasor e anunciaram que abandonarão seu país.</p>	
---	---

Muitas transformações ambientais ocorreram ao longo da história da Terra. O que está sendo observado em Tuvalu indica que esses processos estão acelerados e são percebidos em diferentes escalas. A *Rio + 10* foi palco de projeções alarmantes sobre o destino do planeta.

Explique as causas que justificam a variação do nível do mar observada dramaticamente em Tuvalu.

Questão 2

Leia o texto com atenção:

O Canadá segundo os norte-americanos

"Com o Canadá, tudo limpo. Até por que, a maioria dos americanos acredita piamente que o Canadá faz parte dos Estados Unidos. Falam a mesma língua, até, e sem aquele sotaque pernóstico dos ingleses. E para telefonar você não precisa nem colocar o código na frente do número, só os três dígitos da cidade, mais o número chamado - um interurbano, enfim. E vejam só as contribuições que o Canadá já deu à cultura americana: Joni Mitchell, Neil Young, Michel J. Fox, John Candy, James Cameron e hóquei, que maravilha!

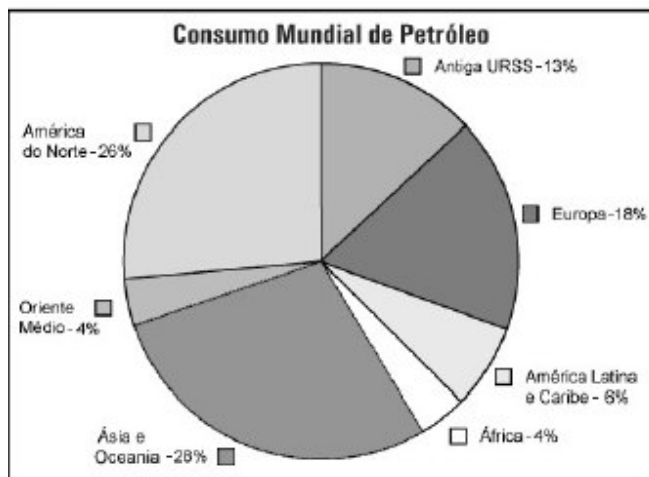
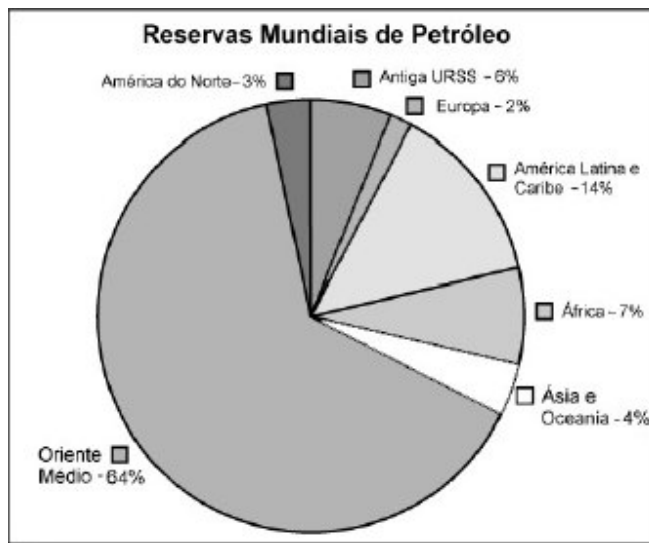
Ah, sim, tem aquela história de Quebec e aquele povo fala francês. Mas Quebec fica na Europa, não fica?"

(BAHIANA, Ana Maria. "América de A a Z - quase tudo o que você precisa saber para sobreviver ao sonho americano". Rio de Janeiro, Objetiva, 1994. p. 19-20.)

O texto caracteriza-se pela ironia, que, quando não é bem interpretada pode parecer uma afirmativa. Apresente os dois problemas canadenses, um econômico e outro político, citados de forma irônica pela autora.

Questão 3

O petróleo constitui atualmente uma das principais fontes de energia e matéria-prima do mundo. Seu ritmo de consumo se acelera a cada dia, o que leva os países a intensificar a produção nacional, fazer acordos internacionais e valorizar outras fontes de energia.

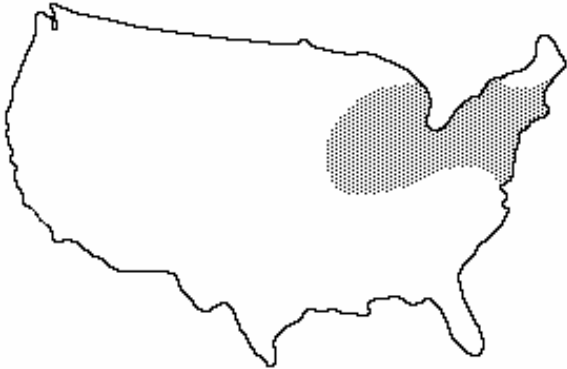


Fonte: SIEE - Sistema de Información Económica Energética, 2002.

A partir da leitura dos gráficos, explique a relação entre as reservas e o consumo de petróleo no mundo.

Questão 4

Analise o mapa dos EUA e sua área hachurada.



A área marcada é de extrema importância para os EUA. As crises econômicas dos anos 70 e 80 revelaram a transformação na dinâmica espacial dos Estados Unidos: o peso demográfico do Nordeste caiu de 46 para 40% entre 1950/80 e seu peso industrial de 68 para 48%.

Apresente as características dessa área que possibilitaram o processo de industrialização pela qual ela passou e cite uma causa para a sua decadência econômica

Questão 5

Um dos países mais conhecidos e desenvolvidos da Ásia é o Japão. Seu progresso tecnológico e sua produção industrial são mundialmente famosos. Por outro lado, sua economia depende muito da importação quase total de matérias-primas.

Faça uma relação entre a dependência do Japão em relação às matérias-primas e seu quadro natural.